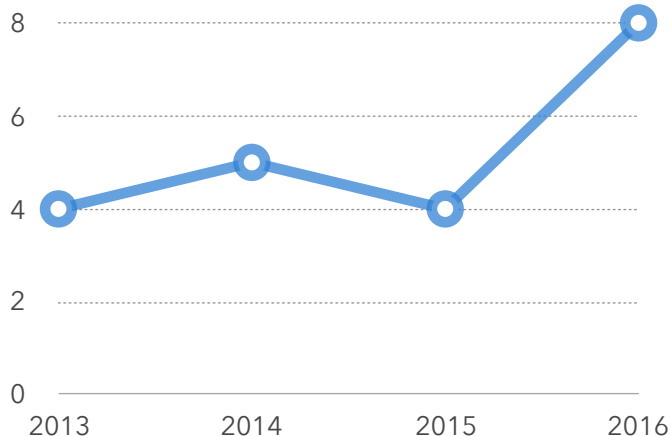
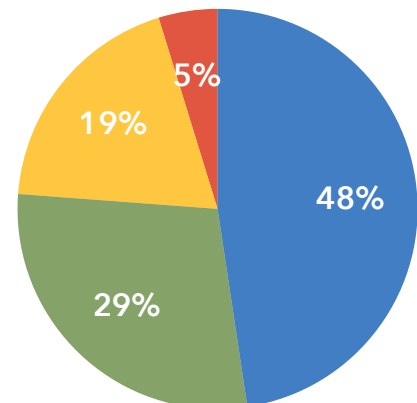


○ Ano a ano



● Calorimetria
● Prop. Calor
● Termodinâmica
● Dilatação



Questões

Questão 01 - (ENEM/2013)

Aquecedores solares usados em residências têm o objetivo de elevar a temperatura da água até 70°C . No entanto, a temperatura ideal da água para um banho é de 30°C . Por isso, deve-se misturar a água aquecida com a água à temperatura ambiente de um outro reservatório, que se encontra a 25°C . Qual a razão entre a massa de água quente e a massa de água fria na mistura para um banho à temperatura ideal?

- 0,111.
- 0,125.
- 0,357.
- 0,428.
- 0,833.

Questão 02 - (ENEM/2013)

É comum nos referirmos a dias quentes como dias “de calor”. Muitas vezes ouvimos expressões como “hoje está calor” ou “hoje o calor está muito forte” quando a temperatura ambiente está alta.

No contexto científico, é correto o significado de “calor” usado nessas expressões?

- a) Sim, pois o calor de um corpo depende de sua temperatura.
- b) Sim, pois calor é sinônimo de alta temperatura.
- c) Não, pois calor é energia térmica em trânsito.
- d) Não, pois calor é a quantidade de energia térmica contida em um corpo.
- e) Não, pois o calor é diretamente proporcional à temperatura, mas são conceitos diferentes.

Questão 03 - (ENEM/2013)



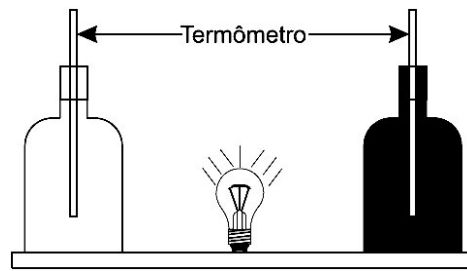
Disponível em: <http://casadosnoopy.blogspot.com>. Acesso em: 14 jun. 2011.

Quais são os processos de propagação de calor relacionados à fala de cada personagem?

- a) Convecção e condução.
- b) Convecção e irradiação.
- c) Condução e convecção.
- d) Irradiação e convecção.
- e) Irradiação e condução.

Questão 04 - (ENEM/2013)

Em um experimento, foram utilizadas duas garrafas PET, uma pintada de branco e a outra de preto, acopladas cada uma a um termômetro. No ponto médio da distância entre as garrafas, foi mantida acesa, durante alguns minutos, uma lâmpada incandescente. Em seguida, a lâmpada foi desligada. Durante o experimento, foram monitoradas as temperaturas das garrafas: a) enquanto a lâmpada permaneceu acesa e b) após a lâmpada ser desligada e atingirem equilíbrio térmico com o ambiente.



A taxa de variação da temperatura da garrafa preta, em comparação à da branca, durante todo experimento, foi

- a) igual no aquecimento e igual no resfriamento
- b) maior no aquecimento e igual no resfriamento.
- c) menor no aquecimento e igual no resfriamento.
- d) maior no aquecimento e menor no resfriamento.
- e) maior no aquecimento e maior no resfriamento.

Questão 05 - (ENEM/2014)

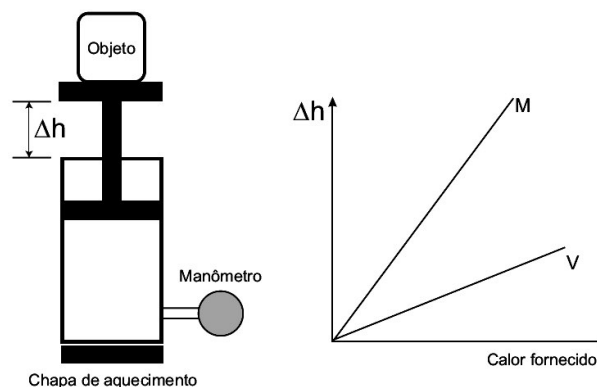
Para a proteção contra curtos-circuitos em residências são utilizados disjuntores, compostos por duas lâminas de metais diferentes, com suas superfícies soldadas uma à outra, ou seja, uma lâmina bimetálica. Essa lâmina toca o contato elétrico, fechando o circuito e deixando a corrente elétrica passar. Quando da passagem de uma corrente superior à estipulada (limite), a lâmina se curva para um dos lados, afastando-se do contato elétrico e, assim, interrompendo o circuito. Isso ocorre porque os metais da lâmina possuem uma característica física cuja resposta é diferente para a mesma corrente elétrica que passa no circuito.

A característica física que deve ser observada para a escolha dos dois metais dessa lâmina bimetálica é o coeficiente de

- a) dureza.
- b) elasticidade.
- c) dilatação térmica.
- d) compressibilidade.
- e) condutividade elétrica.

Questão 06 - (ENEM/2014)

Um sistema de pistão contendo um gás é mostrado na figura. Sobre a extremidade superior do êmbolo, que pode movimentar-se livremente sem atrito, encontra-se um objeto. Através de uma chapa de aquecimento é possível fornecer calor ao gás e, com auxílio de um manômetro, medir sua pressão. A partir de diferentes valores de calor fornecido, considerando o sistema como hermético, o objeto elevou-se em valores Δh , como mostrado no gráfico. Foram estudadas, separadamente, quantidades equimolares de dois diferentes gases, denominados M e V.

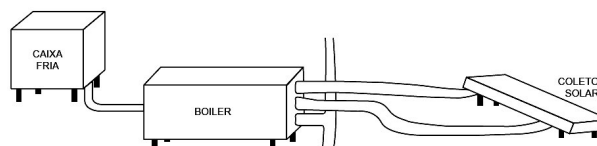


A diferença no comportamento dos gases no experimento decorre do fato de o gás M, em relação ao V, apresentar

- a) maior pressão de vapor.
- b) menor massa molecular.
- c) maior compressibilidade.
- d) menor energia de ativação.
- e) menor capacidade calorífica.

Questão 07 - (ENEM/2014)

Um engenheiro decidiu instalar um aquecedor solar em sua casa, conforme mostra o esquema.



De acordo com as instruções de montagem, para se ter um aproveitamento máximo da incidência solar, as placas do coletor solar devem ser instaladas com um ângulo de inclinação determinado.

O parâmetro que define o valor do ângulo de inclinação dessas placas coletoras é a

- a) altitude.
- b) latitude.
- c) longitude.
- d) nebulosidade.
- e) umidade relativa do ar.

Questão 08 - (ENEM/2014)

O aquecimento de água em residências com o uso de energia solar é uma alternativa ao uso de outras fontes de energia. A radiação solar, ao incidir nas placas, promove o aquecimento da água. O cobre é um dos materiais empregados na produção dos tubos que conduzem a água nos coletores solares. Outros materiais poderiam também ser empregados.

A tabela a seguir apresenta algumas propriedades de metais que poderiam substituir o cobre:

Propriedades	Metal				
	Alumínio	Chumbo	Ferro	Níquel	Zinco
Calor de fusão, kJ/mol	10,7	4,8	13,8	17,5	7,3
Conductividade térmica, W/(m·K)	237	35	80	91	116
Capacidade calorífica, J/(mol·K)	24,2	26,6	25,1	26,1	25,5

De acordo com as propriedades dos metais listadas na tabela, o melhor metal para substituir o cobre seria o

- a) alumínio.
- b) chumbo.
- c) ferro.
- d) níquel.
- e) zinco.

Questão 09 - (ENEM/2014)

As máquinas térmicas foram aprimoradas durante a primeira Revolução Industrial, iniciada na Inglaterra no século XVIII. O trabalho do engenheiro francês Nicolas Léonard Sadi Carnot, que

notou a relação entre a eficiência da máquina a vapor e a diferença de temperatura entre o vapor e o ambiente externo, foi fundamental para esse aprimoramento.

A solução desenvolvida por Carnot para aumentar a eficiência da máquina a vapor foi

- a) reduzir o volume do recipiente sob pressão constante.
- b) aumentar o volume do recipiente e reduzir a pressão proporcionalmente.
- c) reduzir o volume do recipiente e a pressão proporcionalmente.
- d) reduzir a pressão dentro do recipiente e manter seu volume.
- e) aumentar a pressão dentro do recipiente e manter seu volume.

Questão 10 - (ENEM/2015)

As altas temperaturas de combustão e o atrito entre suas peças móveis são alguns dos fatores que provocam o aquecimento dos motores à combustão interna. Para evitar o superaquecimento e consequentes danos a esses motores, foram desenvolvidos os atuais sistemas de refrigeração, em que um fluido arrefecedor com propriedades especiais circula pelo interior do motor, absorvendo o calor que, ao passar pelo radiador, é transferido para a atmosfera.

Qual propriedade o fluido arrefecedor deve possuir para cumprir seu objetivo com maior eficiência?

- a) Alto calor específico.
- b) Alto calor latente de fusão.
- c) Baixa condutividade térmica.
- d) Baixa temperatura de ebulição.
- e) Alto coeficiente de dilatação térmica

Questão 11 - (ENEM/2015)

Uma garrafa térmica tem como função evitar a troca de calor entre o líquido nela contido e o ambiente, mantendo a temperatura de seu conteúdo constante. Uma forma de orientar os consumidores na compra de uma garrafa térmica seria criar um selo de qualidade, como se faz atualmente para informar o consumo de energia de eletrodomésticos. O selo identificaria cinco categorias e informaria a variação de temperatura do conteúdo da garrafa, depois de decorridas seis horas de seu fechamento, por meio de uma porcentagem do valor inicial da temperatura de equilíbrio do líquido na garrafa. O quadro apresenta as categorias e os intervalos de variação percentual da temperatura.

Tipo de selo	Varição de temperatura
A	menor que 10%
B	entre 10% e 25%
C	entre 25% e 40%
D	entre 40% e 55%
E	maior que 55%

Para atribuir uma categoria a um modelo de garrafa térmica, são preparadas e misturadas, em uma garrafa, duas amostras de água, uma a 10 °C e outra a 40 °C, na proporção de um terço de água fria para dois terços de água quente. A garrafa é fechada. Seis horas depois, abre-se a garrafa e mede-se a temperatura da água, obtendo-se 16 °C.

Qual selo deveria ser posto na garrafa térmica testada?

- a) A
- b) B
- c) C
- d) D
- e) E

Questão 12 - (ENEM/2015)

O ar atmosférico pode ser utilizado para armazenar o excedente de energia gerada no sistema elétrico, diminuindo seu desperdício, por meio do seguinte processo: água e gás carbônico são inicialmente removidos do ar atmosférico e a massa de ar restante é resfriada até -198 °C . Presente na proporção de 78% dessa massa de ar, o nitrogênio gasoso é liquefeito, ocupando um volume 700 vezes menor. A energia excedente do sistema elétrico é utilizada nesse processo, sendo parcialmente recuperada quando o nitrogênio líquido, exposto à temperatura ambiente, entra em ebulição e se expande, fazendo girar turbinas que convertem energia mecânica em energia elétrica.

MACHADO, R. Disponível em: www.correiobraziliense.com.br.

Acesso em: 9 set. 2013 (adaptado).

No processo descrito, o excedente de energia elétrica é armazenado pela

- a) expansão do nitrogênio durante a ebulição.
- b) absorção de calor pelo nitrogênio durante a ebulição.
- c) realização de trabalho sobre o nitrogênio durante a liquefação.
- d) retirada de água e gás carbônico da atmosfera antes do resfriamento.
- e) liberação de calor do nitrogênio para a vizinhança durante a liquefação.

Questão 13 - (ENEM/2015)

Uma pessoa abre sua geladeira, verifica o que há dentro e depois fecha a porta dessa geladeira. Em seguida, ela tenta abrir a geladeira novamente, mas só consegue fazer isso depois de exercer uma força mais intensa do que a habitual.

A dificuldade extra para reabrir a geladeira ocorre porque o(a)

- a) volume de ar dentro da geladeira diminuiu.
- b) motor da geladeira está funcionando com potência máxima.
- c) força exercida pelo ímã fixado na porta da geladeira aumenta.
- d) pressão no interior da geladeira está abaixo da pressão externa.
- e) temperatura no interior da geladeira é inferior ao valor existente antes de ela ser aberta.

Questão 14 - (ENEM/2016)

Num dia em que a temperatura ambiente é de $37\text{ }^{\circ}\text{C}$, uma pessoa, com essa mesma temperatura corporal, repousa à sombra. Para regular sua temperatura corporal e mantê-la constante, a pessoa libera calor através da evaporação do suor. Considere que a potência necessária para manter seu metabolismo é 120 W e que, nessas condições, 20% dessa energia é dissipada pelo suor, cujo calor de vaporização é igual ao da água (540 cal/g). Utilize 1 cal igual a 4 J .

Após duas horas nessa situação, que quantidade de água essa pessoa deve ingerir para repor a perda pela transpiração?

- a) $0,08\text{ g}$
- b) $0,44\text{ g}$
- c) $1,30\text{ g}$
- d) $1,80\text{ g}$
- e) $80,0\text{ g}$

Questão 15 - (ENEM/2016)

Nos dias frios, é comum ouvir expressões como: “Esta roupa é quentinha” ou então “Feche a janela para o frio não entrar”. As expressões do senso comum utilizadas estão em desacordo com o conceito de calor da termodinâmica. A roupa não é “quentinha”, muito menos o frio “entra” pela janela.

A utilização das expressões “roupa é quentinha” e “para o frio não entrar” é inadequada, pois o(a)

- a) roupa absorve a temperatura do corpo da pessoa, e o frio não entra pela janela, o calor é que sai por ela.
- b) roupa não fornece calor por ser um isolante térmico, e o frio não entra pela janela, pois é a temperatura da sala que sai por ela.
- c) roupa não é uma fonte de temperatura, e o frio não pode entrar pela janela, pois o calor está contido na sala, logo o calor é que sai por ela.
- d) calor não está contido num corpo, sendo uma forma de energia em trânsito de um corpo de maior temperatura para outro de menor temperatura.
- e) calor está contido no corpo da pessoa, e não na roupa, sendo uma forma de temperatura em trânsito de um corpo mais quente para um corpo mais frio.

Questão 16 - (ENEM/2016)

Durante a primeira fase do projeto de uma usina de geração de energia elétrica, os engenheiros da equipe de avaliação de impactos ambientais procuram saber se esse projeto está de acordo com as normas ambientais. A nova planta estará localizada à beira de um rio, cuja temperatura média da água é de $25\text{ }^{\circ}\text{C}$, e usará a sua água somente para refrigeração. O projeto pretende que a usina opere com $1,0\text{ MW}$ de potência elétrica e, em razão de restrições técnicas, o dobro dessa potência será dissipada por seu sistema de arrefecimento, na forma de calor. Para atender a resolução número 430, de 13 de maio de 2011, do Conselho Nacional do Meio Ambiente, com uma ampla margem de segurança, os engenheiros determinaram que a água só poderá ser devolvida ao rio com um aumento de temperatura de, no máximo, $3\text{ }^{\circ}\text{C}$ em relação à temperatura da água do rio captada pelo sistema de arrefecimento. Considere o calor específico da água igual a $4\text{ kJ}/(\text{kg }^{\circ}\text{C})$.

Para atender essa determinação, o valor mínimo do fluxo de água, em kg/s , para a refrigeração da usina deve ser mais próximo de

- a) 42.
- b) 84.
- c) 167.
- d) 250.
- e) 500.

Questão 17 - (ENEM/2016)

Primeiro, em relação àquilo a que chamamos água, quando congela, parece-nos estar a olhar para algo que se tornou pedra ou terra, mas quando derrete e se dispersa, esta torna-se bafo e ar; o ar, quando é queimado, torna-se fogo; e, inversamente, o fogo, quando se contrai e se extingue, regressa à forma do ar; o ar, novamente concentrado e contraído, torna-se nuvem e nevoeiro, mas, a partir destes estados, se for ainda mais comprimido, torna-se água corrente, e de água torna-se novamente terra e pedras; e deste modo, como nos parece, dão geração uns aos outros de forma cíclica.

PLATÃO. *Timeu-Crítias*. Coimbra: CECH, 2011.

Do ponto de vista da ciência moderna, os “quatro elementos” descritos por Platão correspondem, na verdade, às fases sólida, líquida, gasosa e plasma da matéria. As transições entre elas são hoje entendidas como consequências macroscópicas de transformações sofridas pela matéria em escala microscópica.

Excetuando-se a fase de plasma, essas transformações sofridas pela matéria, em nível microscópico, estão associadas a uma

- a) troca de átomos entre as diferentes moléculas do material.
- b) transmutação nuclear dos elementos químicos do material.
- c) redistribuição de prótons entre os diferentes átomos do material.
- d) mudança na estrutura espacial formada pelos diferentes constituintes do material.
- e) alteração nas proporções dos diferentes isótopos de cada elemento presente no material.

Questão 18 - (ENEM/2016)

Para a instalação de um aparelho de ar-condicionado, é sugerido que ele seja colocado na parte superior da parede do cômodo, pois a maioria dos fluidos (líquidos e gases), quando aquecidos, sofrem expansão, tendo sua densidade diminuída e sofrendo um deslocamento ascendente. Por sua vez, quando são resfriados, tornam-se mais densos e sofrem um deslocamento descendente.

A sugestão apresentada no texto minimiza o consumo de energia, porque

- a) diminui a umidade do ar dentro do cômodo.
- b) aumenta a taxa de condução térmica para fora do cômodo.
- c) torna mais fácil o escoamento da água para fora do cômodo.
- d) facilita a circulação das correntes de ar frio e quente dentro do cômodo.
- e) diminui a taxa de emissão de calor por parte do aparelho para dentro do cômodo.

Questão 19 - (ENEM/2016)

Num experimento, um professor deixa duas bandejas de mesma massa, uma de plástico e outra de alumínio, sobre a mesa do laboratório. Após algumas horas, ele pede aos alunos que avaliem a temperatura das duas bandejas, usando para isso o tato. Seus alunos afirmam, categoricamente, que a bandeja de alumínio encontra-se numa temperatura mais baixa. Intrigado, ele propõe uma segunda atividade, em que coloca um cubo de gelo sobre cada uma das bandejas, que estão em equilíbrio térmico com o ambiente, e os questiona em qual delas a taxa de derretimento do gelo será maior.

O aluno que responder corretamente ao questionamento do professor dirá que o derretimento ocorrerá

- a) mais rapidamente na bandeja de alumínio, pois ela tem uma maior condutividade térmica que a de plástico.
- b) mais rapidamente na bandeja de plástico, pois ela tem inicialmente uma temperatura mais alta que a de alumínio.
- c) mais rapidamente na bandeja de plástico, pois ela tem uma maior capacidade térmica que a de alumínio.
- d) mais rapidamente na bandeja de alumínio, pois ela tem um calor específico menor que a de plástico.
- e) com a mesma rapidez nas duas bandejas, pois apresentarão a mesma variação de temperatura.

Questão 20 - (ENEM/2016)

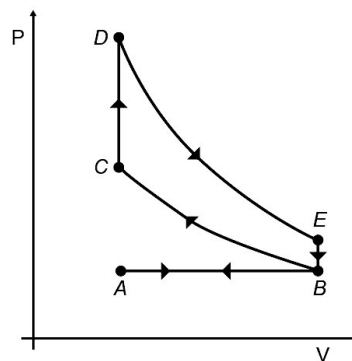
Até 1824 acreditava-se que as máquinas térmicas, cujos exemplos são as máquinas a vapor e os atuais motores a combustão, poderiam ter um funcionamento ideal. Sadi Carnot demonstrou a impossibilidade de uma máquina térmica, funcionando em ciclos entre duas fontes térmicas (uma quente e outra fria), obter 100% de rendimento.

Tal limitação ocorre porque essas máquinas

- a) realizam trabalho mecânico.
- b) produzem aumento da entropia.
- c) utilizam transformações adiabáticas.
- d) contrariam a lei da conservação de energia.
- e) funcionam com temperatura igual à da fonte quente.

Questão 21 - (ENEM/2016)

O motor de combustão interna, utilizado no transporte de pessoas e cargas, é uma máquina térmica cujo ciclo consiste em quatro etapas: admissão, compressão, explosão/expansão e escape. Essas etapas estão representadas no diagrama da pressão em função do volume. Nos motores a gasolina, a mistura ar/combustível entra em combustão por uma centelha elétrica.



Para o motor descrito, em qual ponto do ciclo é produzida a centelha elétrica?

- a) A
- b) B
- c) C
- d) D
- e) E

Gabarito

1 B

2 C

3 E

4 E

5 C

6 E

7 B

8 A

9 E

10 A

11 D

12 C

13 D

14 E

15 D

16 C

17 D

18 D

19 A

20 B

21 C